


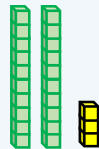


Сурагчийн нэр: .....

Эхэлсэн: ..... он ..... сар ..... өдөр

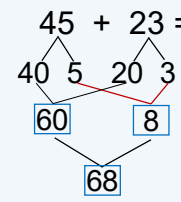


45 = 40 + 5  
45 = 4 а 5 н



23 = 20 + 3  
23 = 2 а 3 н

45 + 23 = 68



4 а + 2 а = 6 а = 60  
5 н + 3 н = 8 н

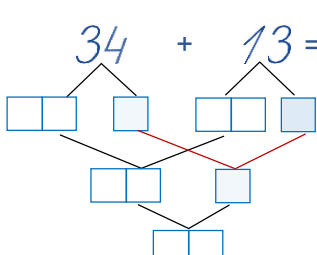
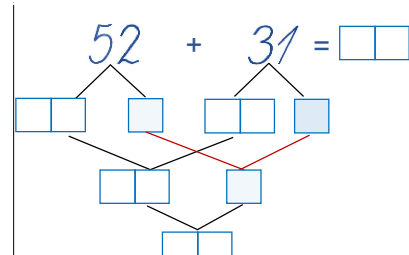
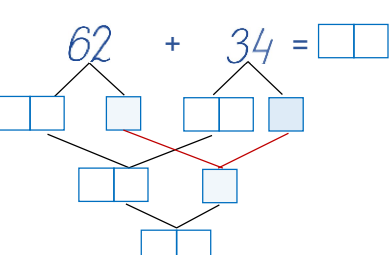
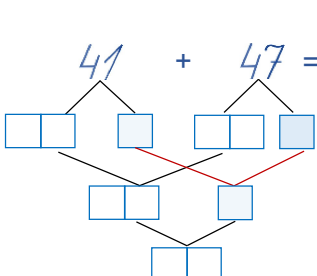
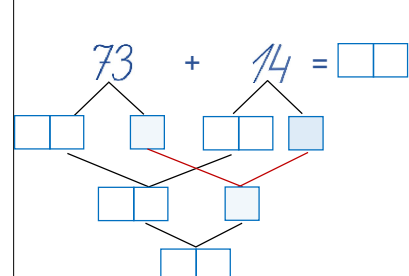
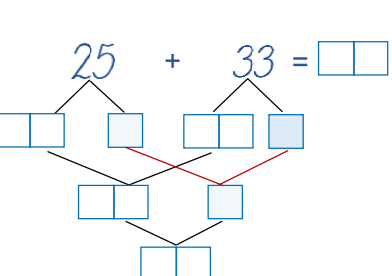
1 60 гарах мөнгөн дэвсгэртүүдийг сонгоорой.



2 80 гарах мөнгөн дэвсгэртүүдийг сонгоорой.



3 Орны нэмэгдэхүүний нийлбэрт задалж бодоорой.

$34 + 13 =$ 	$52 + 31 = \square\square$ 	$62 + 34 = \square\square$ 
$41 + 47 =$ 	$73 + 14 = \square\square$ 	$25 + 33 = \square\square$ 

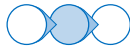
4 Нэгж дээр нэгжийг, аравт дээр аравтыг цээжээр нэмж бодоорой.

а.	$51 + 12 = 63$	$46 + 43 =$	$33 + 22 =$
б.	$44 + 23 =$	$35 + 31 =$	$64 + 12 =$
в.	$25 + 72 =$	$41 + 28 =$	$82 + 16 =$

Дууссан: .....сар .....өдөр









Даалгавар	1	2	3	4
Өөрийн үнэлгээ				



Сурагчийн нэр: .....

Эхэлсэн: ..... он ..... сар ..... өдөр

1 Асуултад хариулж бодоорой.



 25	 44	 32
 43	 64	 51

а.   нийлээд хэд вэ?



--	--	--	--	--	--	--	--	--	--

б.   нийлээд хэд вэ?

--	--	--	--	--	--	--	--	--	--

в.   нийлээд хэд вэ?

--	--	--	--	--	--	--	--	--	--

г.   нийлээд хэд вэ?

--	--	--	--	--	--	--	--	--	--

2 Илэрхийллийг бодоорой.

а.  $31 + 25 + 13 =$


б.  $12 + 46 + 41 =$


а.  $17 + 21 + 30 =$


б.  $40 + 38 + 21 =$


3 Үл мэдэгдэх тоог олоорой.

а.  $\square - 53 = 25$   
 $\square = \square + \square$   
 $\square = \square$

б.  $\square - 37 = 42$   
 $\square = \square + \square$   
 $\square = \square$

в.  $\square - 46 = 23$   
 $\square = \square + \square$   
 $\square = \square$

г.  $\square - 17 = 42$   
 $\square = \square + \square$   
 $\square = \square$

д.  $\square - 52 = 26$   
 $\square = \square + \square$   
 $\square = \square$

е.  $\square - 38 = 31$   
 $\square = \square + \square$   
 $\square = \square$

4 Илэрхийлэл бичээд, бодоорой.

а. 36 дээр 52-ыг нэмээрэй.

б. 83-ыг 15-аар нэмэгдүүлээрэй.

в. 74 ба 21-ийн нийлбэр хэд вэ?

а.									
б.									
в.									

Дууссан: .....сар .....өдөр



Даалгавар	1	2	3	4
Өөрийн үнэлгээ				

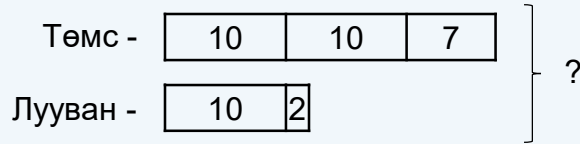


Сурагчийн нэр: .....

Эхэлсэн: ..... он ..... сар ..... өдөр

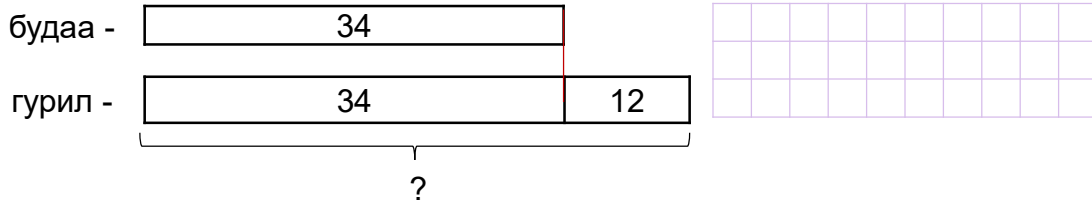


Ногоочин 27 шуудай төмс, 12 шуудай лууван хураав. Ногоочин нийт хэдэн шуудай ногоо хураасан бэ?



$$27 + 12 = 20 + 10 + 7 + 2 = 30 + 9 = 39 \text{ шуудай ногоо хураасан}$$

1 Дэлгүүр 34 уут будаа, түүнээс 12-оор олон уут гурил байна. Дэлгүүрт хэдэн шуудай гурил байгаа вэ?



2 Хүү 25 хуудас, охин 32 хуудас уншив. Тэд нийлээд хэдэн хуудас уншсан бэ?

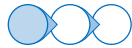

3 Аав 45 настай, би 23 настай бол бидний нас нийлээд хэд вэ?


4 Нэгдүгээр анги 31 сурагчтай, хоёрдугаар анги түүнээс 11-ээр олон сурагчтай. Хоёр анги нийлээд хэдэн сурагчтай вэ?


5 Дэлгүүрт 40 сарнай, түүнээс 13-аар олон зуун наст байна. Дэлгүүр хэдэн цэцэгтэй вэ?



Дууссан: .....сар .....өдөр

Даалгавар	1	2	3	4	5
Өөрийн үнэлгээ					



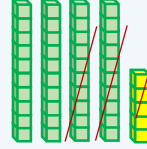
Сурагчийн нэр: .....

Эхэлсэн: ..... он ..... сар ..... өдөр



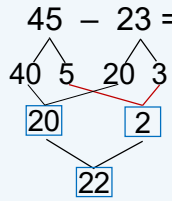
$45 - 23$

$45 = 40 + 5$   
 $45 = 4 \text{ а } 5 \text{ н}$









$23 = 20 + 3$   
 $23 = 2 \text{ а } 3 \text{ н}$

$45 - 23 = 22$

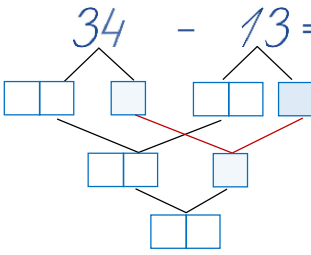
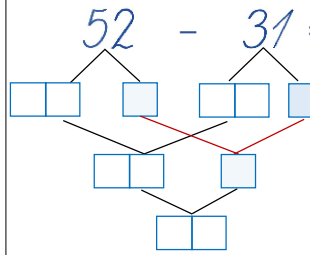
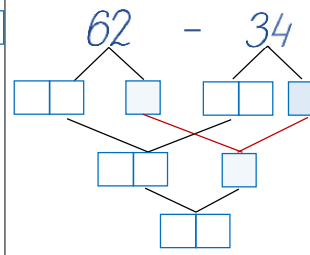
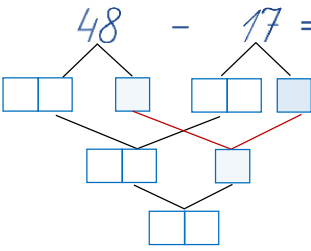
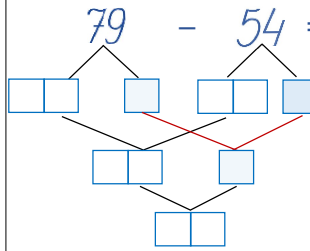
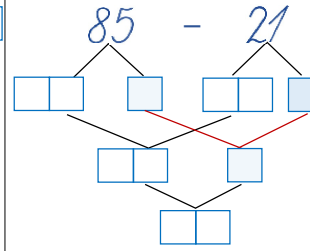


$4 \text{ а} - 2 \text{ а} = 2 \text{ а} = 20$   
 $5 \text{ н} - 3 \text{ н} = 2 \text{ н}$

1 Мөнгөн дэвсгэрт дээр хасах үйлдэл гүйцэтгээрэй.

$60 - 40 =$	$50 - 20 =$	$70 - 50 =$
		
		

2 Орны нэмэгдэхүүний нийлбэрээр задалж бодоорой.

$34 - 13 =$ 	$52 - 31 = \square \square$ 	$62 - 34 = \square \square$ 
$48 - 17 =$ 	$79 - 54 = \square \square$ 	$85 - 21 = \square \square$ 

3

а. $52 - 12 = 40$	б. $46 - 43 =$	в. $33 - 22 =$
а. $44 - 23 =$	б. $35 - 21 =$	в. $64 - 12 =$
а. $75 - 32 =$	б. $48 - 12 =$	в. $86 - 15 =$

Дууссан: .....сар .....өдөр









Даалгавар	1	2	3
Өөрийн үнэлгээ			




Сурагчийн нэр: .....

Эхэлсэн: ..... он ..... сар ..... өдөр

1 Асуултад хариулж бодоорой.

 25	 39	 32
 43	 37	 58

а.   хэдийн зөрөөтэй вэ?

--	--	--	--	--	--	--	--	--	--

б.  -аас  хэдээр цөөн бэ?

--	--	--	--	--	--	--	--	--	--

в.   зөрөөг олоорой.

--	--	--	--	--	--	--	--	--	--

г.   зөрөөг олоорой.

--	--	--	--	--	--	--	--	--	--

2 Хүснэгтэд тохирох тоог бичээрэй.

□	70	87			76	80	57	96	99
△	20	12	56	14	36			47	54
□ - △	50		13	43		30	13		

3 Илэрхийллийг бодоорой.

а.  $99 - 46 + 24 =$


б.  $87 - 36 + 15 =$


а.  $45 + 23 - 57 =$


б.  $98 - 23 - 64 =$


4 Үл мэдэгдэх тоог олоорой.

а.  $87 - \square = 25$

$\square = \underline{\quad} + \underline{\quad}$

$\square = \underline{\quad}$

Шалгах:  $\underline{\quad} - \underline{\quad} =$

б.  $\square + 45 = 95$

$\square = \underline{\quad} + \underline{\quad}$

$\square = \underline{\quad}$

Шалгах:  $\underline{\quad} + \underline{\quad} =$

в.  $32 + \square = 88$

$\square = \underline{\quad} + \underline{\quad}$

$\square = \underline{\quad}$

Шалгах:  $\underline{\quad} + \underline{\quad} =$

5 Илэрхийлэл бичээд, бодоорой.

а. 67-оос 54-ийг хасаарай.

б. 83-ыг 52-оор хорогдуулаарай.

в. 95 ба 43-ын ялгавар хэд вэ?

а.									
б.									
в.									

Дууссан: .....сар .....өдөр



Даалгавар	1	2	3	4	5
Өөрийн үнэлгээ					

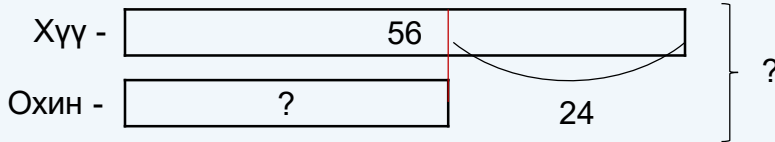


Сурагчийн нэр: .....

Эхэлсэн: ..... он ..... сар ..... өдөр



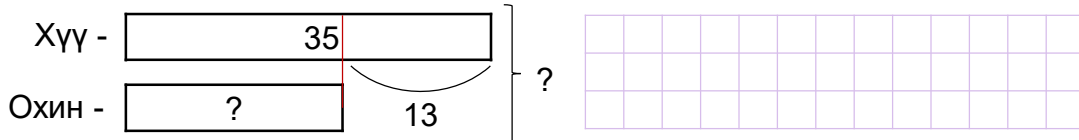
Хүү 56 хуудас, охин түүнээс 24-өөр цөөн хуудас уншив. Тэд нийт хэдэн хуудас уншсан бэ?



$$56 - 24 = 32 \text{ (охины уншсан хуудас)}$$

$$56 + 32 = 88 \text{ (нийт уншсан хуудас)}$$

- 1 Ангид 35 охин, түүнээс 13-аар цөөн хүү байна. Ангид нийт хэдэн хүүхэд байгаа вэ?



- 2 Ах 47 настай, дүү 25 настай. Ах дүү хоёр хэдэн насны зөрөөтэй вэ?



- 3 Хашаанд 24 хурга байна. Энэ нь ишигнээс 12-өөр цөөн бол хашаанд хэдэн хурга, ишиг байгаа вэ?



- 4 Сургуулийн хашаанд 25 улиас, 46 хуш мод тарив. Хэдээр олон хуш тарьсан бэ?



- 5 Хүү 56 см урттай олс, охин түүнээс 15 см-ээр богино олс бэлтгэв. Олсыг нийлүүлбэл хэдэн сантиметр урттай болох вэ?



Дууссан: .....сар .....өдөр



Даалгавар	1	2	3	4	5
Өөрийн үнэлгээ	😊	😊	😊	😊	😊